

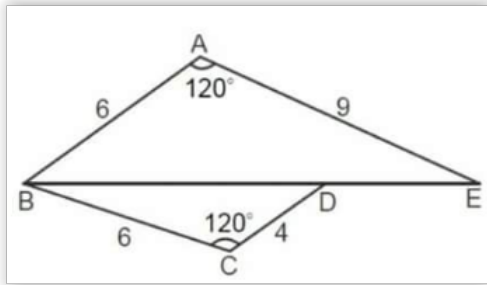
Latihan Soal Olimpiade Matematika SD

Winter Camp Persiapan OSN 2019

Departemen Sains - Wardaya College

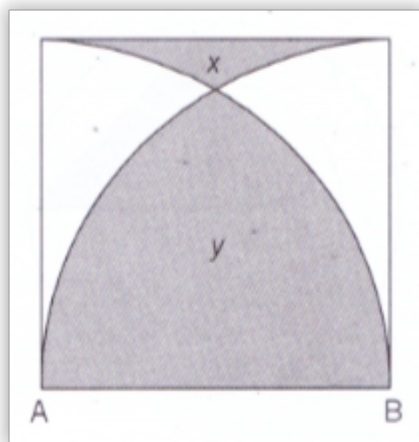
GEOMETRI

1. Perhatikan gambar berikut!

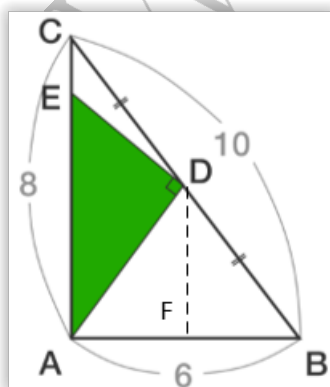


Tentukanlah panjang AC

2. Jika Persegi dibawah ini panjang sisinya adalah 14 cm, Tentukan selisih luas daerah y dan luas daerah x !



3. Perhatikan gambar berikut!



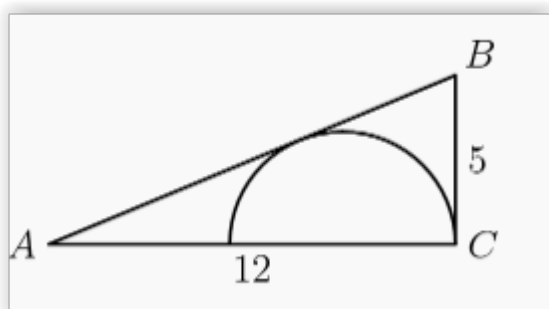
Luas daerah yang berwarna hijau adalah

4. Perhatikan gambar berikut :



DEFA adalah persegi panjang berukuran 6×8 , dimana $DC = CB = AB$. Carilah luas daerah yang diarsir!

5. Perhatikan gambar berikut :



Jika $AC = 12$ cm, $BC = 5$ cm, Tentukanlah jari-jari dari setengah lingkaran di dalam segitiga!